


2022

Test Psicotécnico

Pruebas selectivas para el ingreso, por el sistema de oposición libre, en el Cuerpo de Subalternos del Parlamento de Andalucía

PRIMER EJERCICIO

Enero 2022



A continuación encontrará una serie de cuestiones referidas a razonamiento lógico, espacial y verbal. Cada planteamiento tiene cuatro opciones de respuesta de las que **sólo una es correcta**. Lea atentamente y responda en la hoja destinada para tal fin.

1. ¿Qué número no pertenece al conjunto?

6 – 12 – 18 – 26 – 30 - 36

A	B	C	D
18	36	26	12

2. EXÓTICO es a EXTRAÑO como FÚTIL es a

A	B	C	D
Extranjero	Ajeno	Inane	Interesante

3- ¿Qué número no pertenece al conjunto?

135- 246 – 357 -468 -689

A	B	C	D
689	468	246	135

















4. ¿En qué grupo de letras hay una que no está en los otros grupos?

A	B	C	D
SDFRL	DSLFR	FLDRS	SDLFN

5. El color CIAN es

A	B	C	D
Amarillo	Celeste	Morado	Naranja

6. Cada forma del recuadro tiene un valor. Descubra cuál es para saber qué número tiene que reemplazar a la interrogación

				11
				
				12
				
¿			13	


A	B	C	D
14	17	20	11

7. ¿Qué elemento no forma parte del conjunto?



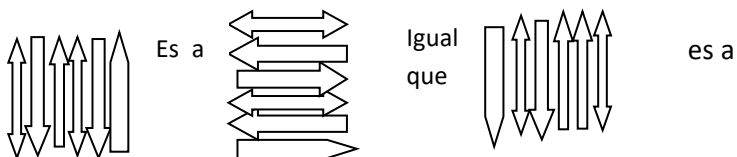
A	B	C	D
Cohete	Corona	lápiz	hacha

8. ¿Cuántos cuadrados harán falta para completar el tablero?



A	B	C	D
11	16	18	19

9. Completa la siguiente analogía



A	B	C	D


10. Si al grupo de cifras 24-26-28 le corresponde 12-13-14 ¿qué grupo corresponde al 48-46-42?

A	B	C	D
24-23-14	24-23-20	24-23-22	24-23-21

11. AGUA es a EMBUDO como TIERRA es a

A	B	C	D
Criba	Fresadora	Cinzel	Escariador

12. ¿En qué dos cuadros del diagrama coinciden los mismos elementos?

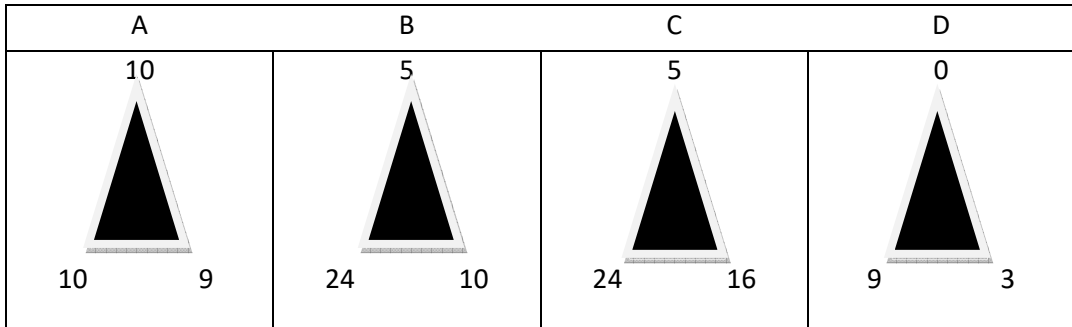
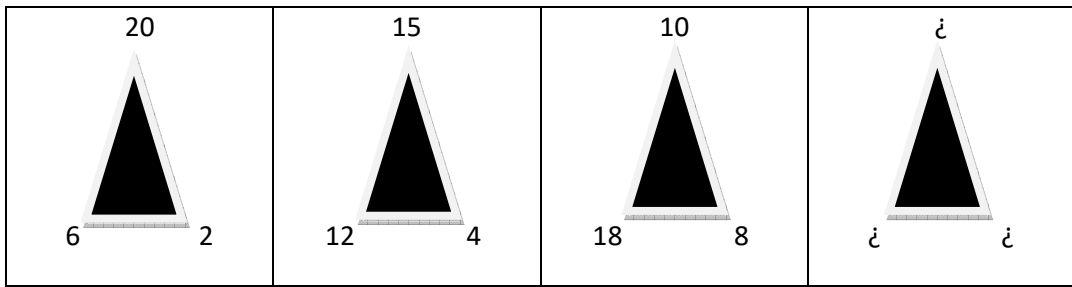


A	B	C	D
C2 y D4	B3 y A2	A1 y C3	D4 y B2

13. ¿Qué pareja de palabras no tiene una relación de sinonimia?

A	B	C	D
Medroso-audaz	Pertrechar-facilitar	Meticuloso-minucioso	Sutil-tenue

14. ¿Qué números deben rodear el último triángulo?



15. Uno de los números de esta serie está equivocado ¿qué numero debería figurar en su lugar?


1 8 2 8 3 8 4 8 5 8 6 8 7 8 9 8

A	B	C	D
7	8	6	10

16. De una cantidad que mengua se dice que....

A	B	C	D
Se va	Muere	Disminuye	Desaparece

17. ¿Cuántos cuadrados harán falta para completar el tablero?



A	B	C	D
22	23	25	26

18. ¿Qué palabra es más general o comprende a las otras?

A	B	C	D
Corola	Flor	Pétalos	Pistilo

19. ¿Qué número de los que se proponen completaría la serie: 2-4-6-12-14-16-...?

A	B	C	D
18	42	8	32

20. YERTO es a RÍGIDO lo que TRANSAR es a

A	B	C	D
TRASVASE	CEDER	TRANSITAR	NEGARSE

21. PROFUSIÓN es a ABUNDANCIA como APOGEO a

A	B	C	D
ADECUADO	AUGE	DISMINUCIÓN	DOMINIO

22. ¿Cuál de las siguientes opciones tiene más parecido con BOLETUS, CHAMPIÑÓN, NÍSCALO?

A	B	C	D
Floema	Oronja	Garnacha	Airén

23. es a LONGITUD como ONZA es a.....

A	B	C	D
PIE-PARTE	ANCHURA-PESO	VARA-PESO	LATITUD-PROFUNDIDAD

24. Si la frase estuviera ordenada ¿qué número cumple lo que se dice en ella?

Y SUMA CUATRO ESCRIBA TRES LA UNO DE

A	B	C	D
9	6	7	8

25. ¿Qué número completa la siguiente relación?

343332	323130
302928	282726

262524	242322
222120	201918

¿	161514
141312	121110

1098	876
654	432

A	B	C	D
201918	181716	191820	222120




26. Si en una caja hubiera tres más pequeñas y dentro de cada una de estas tres hubiera seis, ¿cuántas cajas habría en total?

A	B	C	D
18	27	20	22

27. ¿Cuál de las siguientes opciones tiene más parecido con SCORPUS, TAURO, CASIOPEA?

A	B	C	D
Alhelí	Ixia	Lila	Pegasus

28. ¿Qué número reemplaza la interrogación interior y abajo a la derecha?

2 	3 	4 
--	--	---

A	B	C	D
46 interior y abajo drcha. 256	64 interior y abajo drcha. 125	34 interior y abajo drcha. 32	64 interior y abajo drcha. 256

29. Elija la palabra que significa lo mismo o algo muy parecido a AUTOCRACIA

A	B	C	D
Dictadura	Democracia	Anarquía	Circunspecto

30. ¿Qué valor tiene la letra D teniendo en cuenta la siguiente correspondencia?

$$M + D + M = 9$$

$$D + M + D + M = 14$$

$$D = ?$$

A	B	C	D
4	7	8	5

31. ¿Qué elemento no forma parte del conjunto?



A	B	C	D
Caballito de mar	Canguro	Búho	Araña

32. LOCUAZ es a HABLADOR lo que ZAFIO es a

A	B	C	D
Cerril	Atento	Refinado	Tímido

33. ¿Qué valor tiene la letra H teniendo en cuenta la siguiente correspondencia?

$$B + F + H = 13$$

$$H = B + 1$$

$$B = F$$

$$H = \dot{\zeta}$$

A	B	C	D
4	7	8	5

34. TRIVIAL es a BALADÍ como COMPLEJO es a.....

A	B	C	D
íntegro	intrincado	escueto	adecuado

35. Elija la palabra que significa lo contrario de DECREPITO

A	B	C	D
Vertido	Antidiluviano	Moderno	Rancio

36. ¿Cuál de las siguientes opciones tiene más parecido con LEVANTE, CONTRAALISIOS, SIROCO?

A	B	C	D
Ciclo	Fase	Anticiclón	Cierzo

37. Una persona que se queja continuamente y tiene aversión a la humanidad se dice que es

A	B	C	D
Misántropo	Ojizarco	Núbil	Hobachón

38. VAGO es a HOLGAZÁN, lo que OMINOSO es a

A	B	C	D
Grandioso	Beneficioso	Venturoso	Funesto

39. Dada la serie 14 – 18 – 26 – 42 – 74 – 138, ¿qué serie sigue el mismo razonamiento?

A	B	C	D
16 – 20 – 28 – 44 – 76 – 140	16 – 20 – 28 – 45 – 75 – 138	16 – 20 – 28 – 46 – 75 – 138	16 – 20 – 28 – 44 – 75 – 138

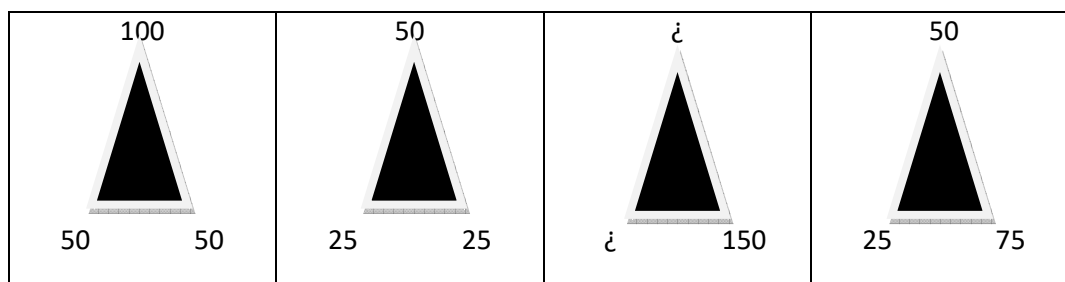
40.es a ESCONDER lo que TIMO es a

A	B	C	D
Reñir-Asalto	Liberar-Piloto	Medir-Asalto	Rundir-Dolo

41. MÁS es a MENOS como DESPUÉS es a

A	B	C	D
Tiempo	Siguiente	pronto	antes

42. ¿Qué números deben rodear el tercer triángulo?



A	B	C	D
50 superior y 150 inferior izda	100 superior y 150 inferior izda	100 superior 75 inferior izda	100 superior y 50 inferior izda

43. SORPRESA es a EXTRAÑO, como MIEDO es a

A	B	C	D
Valeroso	Alegre	Terrible	Denuedo

44. ¿Cuál de las siguientes opciones no tiene parecido con AZUFRE, AZABACHE, JASPE?

A	B	C	D
Onix	Lapilázuli	Pirita	Cejo

45. Si CENSATARIO = N₃ E₂ A₅₇ T₆ C₁ S₄ O₁₀ I₉ R₈, entonces E₂ C₁ U₄ A₆ L₃₅ R₇ es igual a:

A	B	C	D
igual	celulitis	celular	acera

46. De entre las opciones dadas, ¿qué palabra no pertenece al grupo?

A	B	C	D
Novato	Pipilo	Experto	Novel

47. DESCUIDO es a DISTRACCIÓN como ESPURIO es a:

A	B	C	D
Falso	Tácito	Dogmático	Delgado

48. De las siguientes series de letras y números debe tachar las letras "M" y "S" y los números "8" y "3"

NSR5ET2 FM1WS5TEDW T3AWQ6JSM3PPIN4DÑN7 ÑLVX4DA8KBM2IU Y3 JS9LAWQ3C0ÑZQ4B2XPÑSYT8X2ASDR6KBV8TEX8QCXM3NBX824LSDF3YL
PL59DWT4X16LÑZ8JAF5DS7PXWMERT3LQW2CD5DWT0 LATYIU459BVCOP


Una vez realizado habrá tachado:

A	B	C	D
9 Letras y 12 números	7 Letras y 11 números	13 letras y 13 números	10 letras y 10 números

49. Si TOSCO = O_{2,5}, C₄, T₁, S₃ entonces T₃ O₇ S₆ N₂ I₁ U₅ R₄ es igual a:

A	B	C	D
Insulso	Incluso	Intruso	Tornado

50. ¿Qué elemento no forma parte del conjunto?



A	B	C	D
---	---	---	---

51. ¿Cuál de las siguientes opciones tiene más parecido con ACACIA, GINGKO, ARCE?

A	B	C	D
Micorriza	Caducifolio	Perenne	Fresno

52. ¿Qué elemento ocupa el cuarto lugar de la siguiente serie?

225 237 249 237.....

A	B	C	D
242	225	221	226

53. ATACAR es a PACIFICAR lo que PUSILÁNIME es a

A	B	C	D
Aprensivo	Osado	Tímido	Infeliz

54. Ordene esta frase y señale con qué letra empieza la sexta palabra:

QUE MEJOR EL ENSEÑA ES LA FORMA NOS DE CAMINO LLEGAR EL

A	B	C	D
L	F	N	C

55. Ordene esta frase y señale con qué letra empieza la quinta palabra:

NUESTRAS ENTRETENIDA IREMOS DE UNA CAPACIDADES AMPLIANDO MANERA

A	B	C	D
a	u	n	d

56. ¿Qué elemento completa la serie?

210 230 250 110

A	B	C	D
130	100	140	120

57. PLAGIAR es a COPIAR lo que PANEGÍRICO es a

A	B	C	D
Hurtar	Reprobación	Loa	Diatriba

58. INSÓLITO es a RARO lo que MIRÍFICO es a

A	B	C	D
Maravilloso	Desdeñable	Vulgar	Chispa

59. Fíjese en las siguientes equivalencias


$(W_n=2 \quad /Q_r=0 \quad N_A=3 \quad F?,W=1 \quad M_nV/S=8 \quad V_l=7 \quad IV=6 \quad \backslash b=5$

De acuerdo con esta equivalencia, ¿cuál será la transformación de la siguiente combinación?

$NA \backslash b F?,W \quad M_nV/S \quad // \quad NA (W_n /Q_r$

A	B	C	D
3510//357	3518//320	3578//876	8765//132

60. Seleccione la opción que completa la serie



A	B	C	D
$\frac{6}{6}$	$\frac{6}{0}$	$\frac{5}{3}$	$\frac{5}{0}$

PREGUNTAS DE RESERVA

151. Elige el valor al que equivale la letra de la derecha

$D + D = W + V$

$D + D + D = 12$

$P + D + V + W = 26$ $P =$

A	B	C	D
10	12	14	13

152. ¿Cuál de las siguientes palabras no forma parte del conjunto?

A	B	C	D
Zigzag	Ancho	Recto	Sinuoso

153. CARMESÍ es ESCARLATA como FATUO es a

A	B	C	D
Petulante	Interesante	Aburrido	Privilegiado